


**Маша собрала в корзину 5 яблок, а Света – 4 груши. Сколько всего плодов собрали девочки?**



**На поляне гуляли 9 цыплят. Когда несколько цыплят убежали, осталось 5. Сколько всего цыплят убежало?**





**На ветке сидели 3 воробья. Прилетели и сели рядом ещё 2 синицы. Сколько птиц сидит на ветке?**



**Мама купила 7 груш, Миша съел 4 груши. Сколько осталось груш на тарелке?**





**На поляне у дубка  
Крот увидел два грибка,  
А подальше, у осин,  
Он нашел еще один.  
Кто ответить нам готов,  
Сколько крот нашел грибов?**




**Раз к зайчонку на обед  
Прискакал дружок сосед.  
На пенек зайчата сели  
И по две морковки съели.  
Кто считать, ребята, ловок?  
Сколько съедено морковок?**






**Картотека**  
**арифметических задач**  
*Подготовительная к школе группа*






Утка морковку в корзине несла,  
Этой покупкой довольна была.  
Если морковку еще ей купить,  
Сколько их будет?  
Ты можешь сложить?




У домика утром  
Два зайца сидели  
И дружно веселую песенку пели.  
Один убежал,  
А второй вслед глядит.  
Сколько у домика  
Зайцев сидит?





**Шесть веселых медвежат  
За малиной в лес спешат.  
Но один малыш устал:  
От товарищей отстал.  
А теперь ответ найди:  
Сколько мишек впереди?**



**Было 10 конфет. Один из братьев съел  
2 конфеты, а другой – 3. Сколько  
конфет достанется сестре?**

